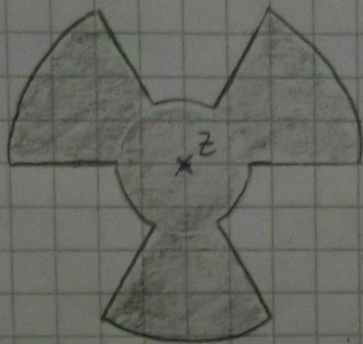




6. Skizzieren Sie jeweils zwei Beispiele für ein sternförmiges und für ein nicht-sternförmiges Gebiet. Markieren Sie insb. die Zentrumsunkte.

Lsg.:



stern-
förmig



nicht
stern-
förmig



von Gregor Hergenhan, Gabriel Klautke und Antonio Lupper